

Фамилия, Имя, Отчество				
Дата рождения				Класс

Эрудит-Марафон Учащихся «ЭМУ-Эрудит 2024»
ЛОВКИЙ РАУНД [4 класс]



ТОНИ

Добрый день, профессор Казуар! Я режиссёр детской телепередачи. В последнее время зрители часто жалуются, что в наших передачах куча ошибок. Можете проверить, так ли это?

Ни слова больше! Я скоро приеду на вашу киностудию.



**ПРОФЕССОР
КАЗУАР**



1. Казуар решил арендовать электросамокат и доехать на нём до студии. Он скачал на телефон приложение, но не смог в нём разобраться. Помогите ему определить верный порядок действий.
- А) Подойти на парковку и найти по номеру забронированный самокат.
 - Б) Выбрать подходящий самокат и забронировать его.
 - В) Открыть приложение и найти раздел с самокатами.
 - Г) Оплатить аренду выбранного самоката и запомнить его номер.
 - Д) Найти в разделе с самокатами ближайшую парковку самокатов.

Запиши в ответе верную последовательность букв. **Ответ:** _____.

СПРАВКА. Забронировать — отметить то, что выбрано, чтобы никто другой не забрал в течение какого-то времени. Аренда — временно за оплату пользоваться чем-то, что принадлежит другому.

2. На киностудии Казуару выдали сценарии и предложили поработать в библиотеке, но из-за беспорядка профессору сначала пришлось заняться уборкой. Какое действие **не** поможет Казуару навести порядок в библиотеке? **Обведи букву выбранного ответа.**
- А. Разложить книги на полки по авторам и темам.
 - Б. Отобрать книги для выставки.
 - В. Протереть пыль на книжных полках.
 - Г. Проверить, что все книги на полках расставлены ровно и аккуратно.
 - Д. Протереть дверцы шкафа с энциклопедиями влажной тканью.

3. Наконец Казуар погрузился в чтение сценариев и вскоре обнаружил первую ошибку. Герой передачи играет в настольную игру и называет её то шашками, то шахматами. А ведь это две разные игры! Рассмотрим картинки и помоги Казуару разобраться, в чём их сходство и различие. Сопоставь условия для сравнения с подходящими словами во втором столбце.

Условия для сравнения		Похожи или нет
А) Игра «Шашки» 	Б) Игра «Шахматы» 	1) Количество игроков
		2) Количество фигур в каждой игре
		3) Поле для игры
		4) Цвет фигур
		5) Форма фигур

Заполни вторую строку таблицы соответствующими буквами. **Ответ:**

1	2	3	4	5

4. Возмущённый Казуар обнаружил в сценариях не только путаницу в названиях, но и опасные ошибки. Например, про правила поведения в бассейне. Помогите профессору вспомнить, что можно, а что нельзя делать в бассейне. Сопоставь действия из первого столбца с подходящими словами из второго столбца.

1) Бегать по скользким бортикам бассейна.	А) Можно
2) Спускаться в воду по лестнке.	Б) Нельзя
3) Ходить в резиновых тапочках.	
4) Принимать душ перед плаванием в бассейне.	
5) Нырять в воду.	

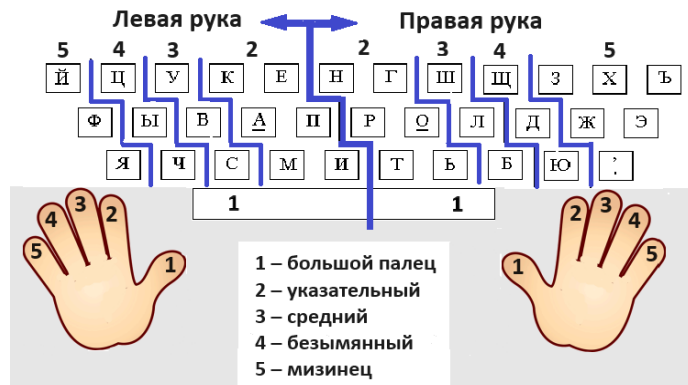
Заполни вторую строку таблицы соответствующими буквами. **Ответ:**

1	2	3	4	5

Правила поведения в бассейне



5. Казуар решил выяснить, кто сценарист передачи. Он узнал, что это его старый друг, советник Розелло. Профессор решил написать другу, используя «слепую» печать. При такой печати за определённым пальцем каждой руки закреплены определённые клавиши, которые должны нажиматься только им. Изучи схему. Как должен печатать Казуар? Сопоставь строки из первого столбца таблицы с подходящими буквами из второго.



1) указательный палец правой руки	А) у, в, с
2) безымянный палец правой руки	Б) н, р, т, г, о, ь
3) указательный палец левой руки	В) ш, л, б
4) средний палец правой руки	Г) щ, д, ю
5) средний палец левой руки	Д) к, а, м, е, п, и

Заполни вторую строку таблицы соответствующими буквами.

Ответ:

1	2	3	4	5

6. Ответа от Розелло не было, и Казуар решил поехать к нему домой. Ему нужно купить билет на поезд. Казуар **не хочет** ехать в отсеке возле выхода из вагона, на боковых и верхних местах. Рассмотрю схему вагона. Помоги профессору выбрать подходящее место из оставшихся свободных мест. **Обведи букву выбранного ответа.**

А. 3 Б. 45 В. 33 Г. 22 Д. 17



7. Чтобы не идти к Розелло с пустыми руками, Казуар заглянул в магазин и купил продуктов. При оплате профессор заметил, что сумма оплаты вышла больше, чем он рассчитывал. Рассмотрю его покупки. В какой строке чека была допущена **ошибка**? **Обведи букву выбранного ответа.**



Кассовый чек				
Документ № 1356778				
23/08/2024		12:54:00	Касса №3	
А.	Йогурт	4.00	3	12.00
Б.	Масло Сливочное	30.00	2	60.00
В.	Молоко	14.00	2	28.00
Г.	Сырок	3.00	6	18.00
Д.	Булочка	2.50	4	10.00
Итого к оплате:		128.00		
Оплачено:		130.00		
Сдача:		2.00		

СПРАВКА. В чеке после названия товара первое число — цена товара, второе число — количество товаров, третье число — итоговая стоимость.

8. Однако в доме советника профессора Казуара встретил авантюрист Аноа. Он рассказал, что Розелло уехал в отпуск и оставил его присматривать за домом. Аноа должен:

- каждый день проветривать комнаты,
- два раза в неделю вытирать пыль,
- через день поливать цветы,
- один раз в неделю мыть пол.








Аноа показал, какое расписание он себе составил. Но Казуар заметил, что в нём есть ошибки. Что Аноа должен **изменить** в расписании? **Обведи две буквы выбранных ответов.**

понедельник	вторник	среда	четверг	пятница	суббота	воскресение
Проветрить	Проветрить	Проветрить	Проветрить	Проветрить	Проветрить	Проветрить
Вытереть пыль	Поливать цветы	Вытереть пыль	Поливать цветы	Вытереть пыль	Помыть пол	Поливать цветы

- А. Ещё один раз на неделе вытереть пыль.
 Б. На один раз меньше протирать пыль.
 В. Перенести полив цветов на субботу.

- Г. Перенести полив цветов на пятницу.
 Д. Добавить ещё одно мытьё пола.

9. Если Розелло уехал, то кто пишет те плохие сценарии? Казуар прямо спросил это у Аноа, и тот жутко разволновался. Чтобы добиться ответа, придётся сначала его успокоить. Казуар решил накормить Аноа. Он нашёл инструкцию по приготовлению роллов, но одного этапа в ней не хватало. Какая картинка должна стоять на месте пропуска? **Обведи букву выбранного ответа.**

	?			
А.	Б.	В.	Г.	Д.
				

СПРАВКА. Роллы — блюдо из риса с начинками. Особенность их приготовления — скручивание при помощи бамбукового коврика в форме рулета и разрезание на кусочки.

10. Аноа признался, что это он писал сценарии вместо Розелло. Но авантюрист не думал, что в них есть ошибки. Казуар показал ему один из сценариев про 3D-ручку:

В 3D-ручке вместо чернил используется пластик, который выделяется из стержня в нагретом виде. Он мгновенно застывает в воздухе в нужной форме. Это позволяет в домашних условиях создавать вручную небольшие объёмные фигурки, узоры и линии.

Дальше в сценарии предложено несколько способов применения 3D-ручки. Однако некоторые из них ошибочны. Как **не** получится использовать 3D-ручку?

Обведи две буквы выбранных ответов.

- А.** Нарисовать небольшие полезные предметы. Например, крючки для ключей.
- Б.** Украсить предметы. Например, рамки для фотографий.
- В.** Подписывать личные вещи. Например, добавить имя на футляр для очков.
- Г.** Создать электронные устройства. Например, детали для компьютера.
- Д.** Использовать для ремонта мебели. Например, дивана.

11. Казуар с Аноа поехали обратно на киностудию, чтобы Аноа сам во всём признался. Для разговора Казуар решил всех рассадить за столом особым образом:

- Казуар и Аноа должны сидеть напротив друг друга.
- Режиссёр и его помощник будут сидеть рядом.
- Остальные члены съёмочной группы будут сидеть рядом друг с другом, но никто из них не должен находиться рядом с режиссёром и его помощником.

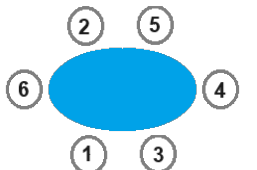
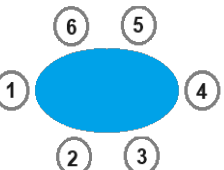
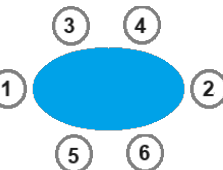
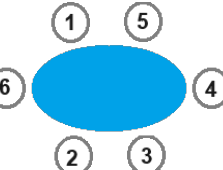
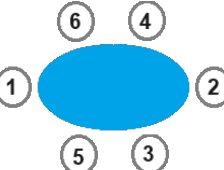
На схемах обозначены:

1 и 2 — Казуар и Аноа,






3 и 4 — режиссёр с помощником,

5 и 6 — остальные участники съёмочной группы. Какая схема рассадки подойдёт Казуару?

Обведи букву выбранного ответа.

А.	Б.	В.	Г.	Д.
				

12. Режиссёр рассердился на Аноа. Но больше его волновал сценарий для будущего выпуска. Он должен быть увлекательным и правдивым! Казуар предложил рассказать о разных видах мороженого. Помоги профессору разобраться с таблицей. Какую информацию имеет каждый вид мороженого? Сопоставь виды мороженого с подходящей информацией о нём.

Виды мороженого	1) 	2) 	3) 	4) 	5) 
Масса	100 г	150 г	100 г	90 г	60 г
Дата изготовления (число, месяц, год)	15.08.2024	27.07.2024	29.03.2024	13.09.2024	25.08.2024
Пищевые добавки	E410	E407	E406	E412	E415
Количество сахара	25 г	18 г	14 г	15 г	20 г

Информация:

А) Продукт изготовлен раньше остальных.

В) Самая маленькая масса продукта.

Б) В составе продукта вредные пищевые добавки.

Г) Самое большое содержание сахара.

Заполни вторую строку таблицы соответствующими буквами.

Ответ:

1	2	3	4	5

СПРАВКА. Пищевые добавки E406, E410, E415 безопасны. E407 может вызвать расстройство пищеварения. E412 может вызвать сыпь на коже.

13. Идея режиссёру понравилась, но после стольких неудачных выпусков этого мало. Тогда Аноа предложил рассказать про систему счёта, с помощью которой можно на пальцах двух рук показывать числа от 1 до 99. Единицы показывают правой рукой, а десятки — левой рукой:

1	2	3	4	5	6	7	8	9	10
									

Казуар решил проверить эту информацию. Он показал Аноа число (на рисунке справа). Какое число показал Казуар? **Запиши в ответе только число.**

Ответ: _____.



левая правая

14. Аноа признался, что сценарист из него получился ужасный и он подумывает стать водителем такси. Казуар захотел помочь Аноа на новой работе. Какое мобильное приложение **не** поможет водителю такси в его работе? **Обведи букву выбранного ответа.**

А.	Б.	В.	Г.	Д.
				
«Шагомер»	«Диктофон»	«Умный водитель»	«Будильник»	«Погода»

СПРАВКА. «Шагомер» вычислит количество шагов. «Диктофон» запишет разговор с клиентом. «Умный водитель» построит краткий маршрут. «Будильник» поможет проснуться вовремя и не опоздать. «Погода» уведомит о предстоящих осадках, гололёде или тумане.

15. Казуар напомнил Аноа, что тот ещё должен извиниться перед Розелло. Ведь авантюрист занял место сценариста без разрешения и подвёл советника! Аноа согласился и заказал для Розелло корзину с тюльпанами, нарциссами и ирисами.

Тюльпан	Нарцисс	Ирис
		
1 штука — 1 AU\$	1 штука — 2 AU\$	1 штука — 3 AU\$

Казуар знает, что стоимость корзины с цветами зависит от количества и цены цветов. Сколько стоила эта корзина с цветами, если корзина без цветов стоит 10 австралийских долларов (AU\$)?

Запиши в ответе только число.

Ответ: _____.



Спасибо! Благодаря тебе мы спасли телепередачу, очистили репутацию советника Розелло и даже нашли новую работу для Аноа! Ты молодец!

